

letopocet na dome

**HASICI
SKODEJOV**

stan. 1



napoveda
2x3=6

1,2|4,3|5,6
1,2,3|4,5,6
3|4,5,6
3,4|6,5
4,6
1,2,3|4,5|6
3,4|6,5
3,5
1,2|4,3|5,6
1,2|4|6,3,5
1,3,5,6

stan. 2


cislo na drivku bylo 43

reseni:
SOUCIN CISEL

1	2	1	2	1	2	1	2	1	2	1	2
3	4	3	4	3	4	3	4	3	4	3	4
5	6	5	6	5	6	5	6	5	6	5	6

1	2	1	2	1	2	1	2	1	2	1	2
3	4	3	4	3	4	3	4	3	4	3	4
5	6	5	6	5	6	5	6	5	6	5	6

kota 600,0
(DC rimsky)



stan. 3



najdete hledanemu mistu **NEJBLIZSI** autobusovou zastavku, presneji obvyklou "boudu" se symbolem autobusove zastavky. Uvnitr boudy, vpravo za vchodem, je (jsou) vyvesen(y) jizdni rad(y) linky(ek). Poslete její(ch) cislo(a) - které(a) je(jsou) vlevo nahore u kazde cedulky. Mala napoveda - pokud nebude mlha, tak z udaneho mista hledanou zastavku uvidite docela dobre. V tomto textu po carou nehledejte sifru

stan. 5

KLAVESNICE

RRSI

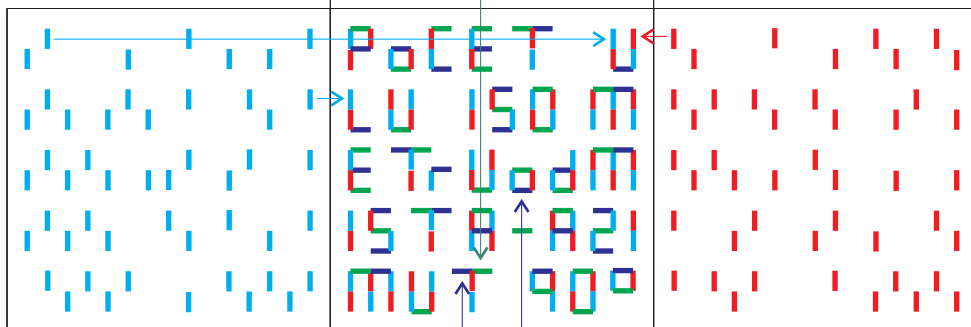
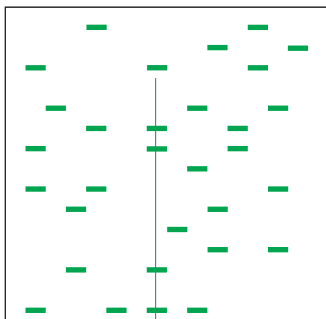
kota 553,9

cislo na drivku

PRELOZIT NA STRED

stan. 4

kota Vartiste



PoCET ULU 150M od MISTA - AZIMUT 90°



stan. 6

stan. 8

anno domini

= LETA PANE =
LETOPOCET NA KRIZKU

stan. 10

**ROZPADLY DUM
V MAPE POD
JMENEM
KOZEL**



1x dveře

pocet celych otvoru domu
t.j. dveře a okna
- tedy otvory, kolem kterych
je zed, které jsou pruhledne
a maji shora preklad

Franta, Pepa a Tonda se sesli u mariase. Probehlo nekolik partii s nasledujicimi vysledky:

- I** v prvni kole byly jako vyhra 2 male mince
 - N** v tomto kole vyhrál Franta 6Kc
 - I** Franta s Tondou vyhráli 2Kc
 - C** Pepa musel vysazet 4 mince. Velkou, malou, velkou, malou
 - I** Tonda prisel o 2Kc
 - A** pri zapise tohoto kola jsme zapomneli na vyherce, který(i) získal(i) 6Kc
 - L** Tonda s Pepou vyhráli 8Kc, velkou minci položil Franta jakou 2hou
 - Y** vítězové brali největší možnou výhru, přičemž menší mince nebyla na kraji
 - P** když Tonda shraboval výhru, tak na krajích byly menší mince. Vyhrál víc než 8Kc
 - O** Co do hodnoty výhry byla suma, co získal Franta, ten den druhá nejvyšší
 - M** Pepe s Frantou brali 10Kc
 - N** Ted to bylo 6Kc pro Frantu a Tondou
 - I** 2Kc pro Tondou
 - K** Pepa bral 3 mince s tím, že vprostřed byla nejmenší
 - U** Pepa s Tondou shrabli nejdrív male mince, dohromady 7Kc
 - P** ted to bylo 12Kc, větší mince nebyla na kraji
 - O** 15Kc pro Tondou s Frantou
 - B** Tonda si vzal víc než 7Kc s tím, že velká mince byla vyplacena jako 1ni
 - L** Pepa dostal menší mince na krajích, poloha větší není jista. Mel celkem 8Kc
 - I** 2Kc pro Frantu
 - Z** Tonda vyhrál 12Kc, menší mince zůstaly nakonec
- Proc jsem neudělal lepší poznámky. Ted, po nekolika dnech, už nevím, kdo kolik vyhrál nebo prohrál. Jestli má pravdu Tonda, když frajeri, jak byl dobřej. Nebo Pepa, kteréj tvrdí to same. A nebo se jim v duchu smeje Franta?

Hraci pro přehlednost používali jen dva druhy mincí. Větší a menší. Hrali v jedny putyce.


MORSEOVKA ... 5 a 1Kč
inicialy pomníku poblíž

nejasnosti jako A/N
nebo L/F zamerne
"sum" navíc

stan. 7
kota Sykori

HRBITOV stan. 11 KRIZLICE

rodina Kasalova a Kynclova bydlí vedle sebe.
Napiste jmeno rodiny ktera je k nim nejbliž



stan. 15

tur zn místa, kde rad sedával
a možná i psal Viktor

DYKOVA SKALA

pan Stejskal, předsedající soudce, určil muze, který bude HLEDANÉ MÍSTO díky sířovacímu stroji schopný nejrychleji najít

stan. 16

chybející (hledány) muzský rod
HRAD Nístejka
v daném lichobežníku jediný

stan. 21

ze strany nastupíte jsou vedle
a nade dveřmi modré tabulky
s nápisy. Zjistete kolik se zde
nachází písmen **E**

datum kolikáte písmeno dne

RR MMD D
09050405 = pondělí
09050503 = úterý
09050604 = středa
09050706 = čtvrtek
09050804 = pátek

stan. 12

hospudka u buldozeru
kolik kol tam ...více sifra
MUZE STAT V KMENU

- AEIOUZPKFJMTG
- FIKNPYUSVX
- VYXULBAHLD
- ALCMBKFPXUV
- CDMNOZTEHYX
- CDSNIE
- HOSTQILRZV
- NOSYM
- BILDGNR
- ALFPUDRHXY
- KAMTOPIJEGF
- CDMNOHERYZX
- MNOZTEVSLHBJQG
- PAFVIDXKUNYS

A	E	I	O	U	Z	P	K	F	J	M	T	G							
F	G	H	I	J	K	L	M	N	O	P	Q	R	S	T	U	V	X	Y	Z

V	Y	X	U	L	B	A	H	L	D															
A	B	C	D	E	F	G	H	I	J	K	L	M	N	O	P	Q	R	S	T	U	V	X	Y	Z


C	D	M	N	O	Z	T	E	H	Y	X														
A	B	C	D	E	F	G	H	I	J	K	L	M	N	O	P	Q	R	S	T	U	V	X	Y	Z

ATD.



stan. 9

kolik je tam barevných tyček?




STUDENY KOPEC



stan. 14


krmelec - kolik ... dveře

ted vidim 576 písmen, v prvni "kole" z nich po redukci zbyde 72, z nich nakonec 9 písmen zustane v kole druhem vzdy do stredu ctverce napsat to písmeno, ktere je v nem nejcastejši



stan. 17 - drivko

cast stareho rozpadleho domu
- tady vam pomuzou sirky, co jste dostali.
Muzete pouzít i ty bez hlavicky. Ale opatrne.
Pokud budete dost rychli a budete muset
palit i ty bez hlavicky, zacnete pro jistotu
od delsich. Ty vas tak rychle nespali
drivko bylo v pod zemi, ve sklepe

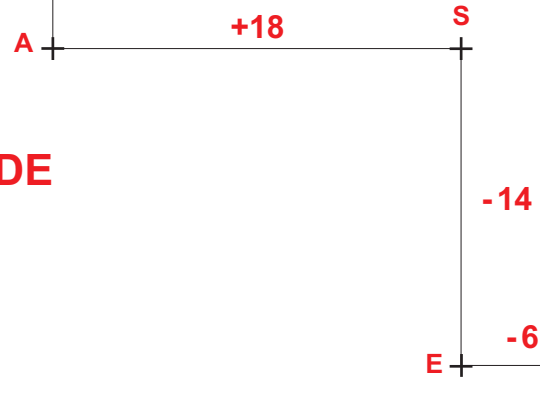


uplny pocatek je A



stan. 23

kolik **A SOUHLASEK** se dopocitate ??
v napise na tabuli



POSUN V ABECEDĚ



zaver